

平成29年度
高等学校入学者選抜学力検査問題

第 3 部

社 会

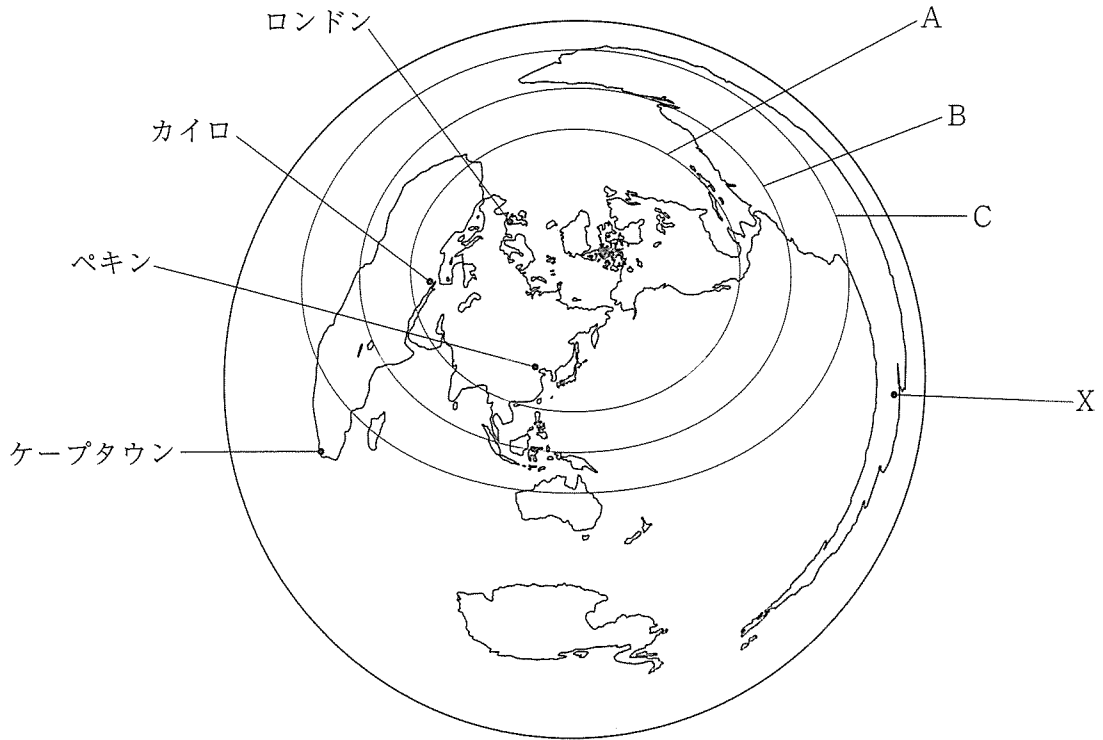
注 意

- 1 問題は、 から まであり、11ページまで印刷してあります。
- 2 答えは、すべて別紙の解答用紙に記入し、解答用紙だけ提出しなさい。
- 3 問いのうち、「……選びなさい。」と示されているものについては、問いで指示されている記号で答えなさい。

1 次の問いに答えなさい。

問1 略地図1は、東京を中心に東京からの距離と方位が正しくなるようにつくった地図です。これを見て、次の(1)~(3)に答えなさい。

略地図1



- (1) 東京から見たXの都市のおおよその方位を、漢字1字で書きなさい。
- (2) 略地図1のロンドン、カイロ、ペキン、ケープタウンの4つの都市のうち、2つの都市は、東京からの距離がほぼ同じです。これら2つの都市の名を書きなさい。
- (3) 略地図1のA~Cの線は3つの緯線を示しており、そのうちの1つは緯度0度の緯線です。緯度0度の緯線をA~Cから選びなさい。また、その緯線の名を書きなさい。

問2 表1は、世界の6つの州のうち、ある州についてまとめたものの一部です。□に当てはまる州の名を書きなさい。

表1

	□州
面積	約2300万km ² (2013年)
人口	約7億4200万人 (2013年)
自然	アルプス山脈があり、ライン川が流れている。
政治・経済	1993年にEUが発足した。 多くの国でユーロという共通の通貨が使われている。
生活・文化	パスタやパン、ピザがよく食べられている。


問3 東大寺について述べた次の文を読んで、(1)、(2)に答えなさい。

東大寺は、平城京に都が置かれていた 時代に建てられた。その後、平安時代の終わりころに始まった源氏と 氏との争乱の中で焼けたが、鎌倉時代に再建され、南大門には、運慶らによってつくられた像が置かれた。

- (1) , に当てはまる語句をそれぞれ書きなさい。ただし、 の語句については、漢字1字で書くこと。
- (2) 下線部 を何といいますか、I群のア～ウから選びなさい。また、この像を、II群のカ～クから選びなさい。

- [I 群] ア 阿弥陀如来像 (阿弥陀如来坐像)
 イ 釈迦三尊像
 ウ 金剛力士像

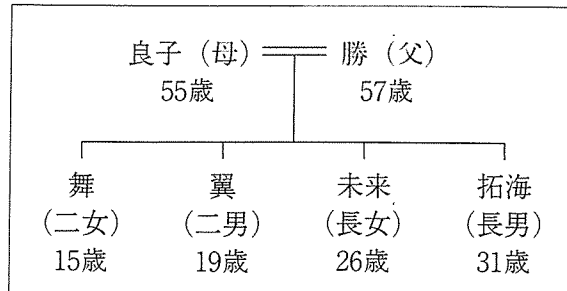
[II 群]



問4 次の(1)～(4)に答えなさい。

- (1) 図は、舞さんの家族の構成と、家族それぞれの2017年3月7日現在の年齢を示したものです。これを見て、次の文の , に当てはまる数字をそれぞれ書きなさい。

図



2017年3月12日に国会議員を選ぶ選挙が行われるとした場合、舞さんの家族の中で選挙権が認められる人数は 人であり、衆議院議員の被選挙権が認められる人数は4人、参議院議員の被選挙権が認められる人数は 人である。

- (2) 次の文の , に当てはまる語句を、それぞれ漢字1字で書きなさい。

一般に、内閣を組織して政権を担当する政党を 党といい、政権を担当しない政党を 党という。

- (3) 人権思想にかかわる次のア～ウのできごとを、年代の古い順に並べなさい。

ア 生命、自由、幸福の追求の権利を示したアメリカ独立宣言が出された。

イ 三権分立を主張したフランスの思想家モンテスキューの「法の精神」が発表された。

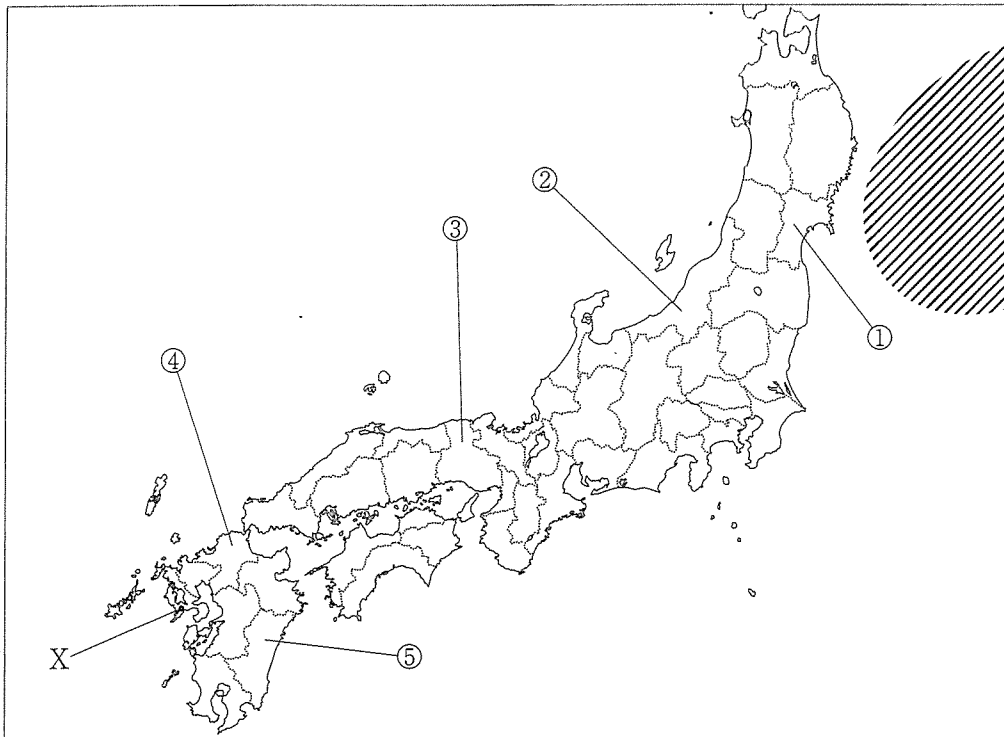
ウ 基本的人権の尊重を基本原理（三大原則）の一つとする日本国憲法が公布された。

- (4) 次の文の に共通して当てはまる語句を書きなさい。

日本では、議院内閣制のしくみをとっており、内閣総理大臣は国会議員の中から選ばれる。アメリカでは、 制のしくみをとっており、国の行政の長である は、連邦議会の議員とは別の選挙で選ばれる。

- 問5 略地図2を見て、次の(1)～(3)に答えなさい。

略地図2



- (1) 次の文の に当てはまる語句を書きなさい。

略地図2の は、魚が集まるよい漁場として知られている。よい漁場となっている理由の一つとして、暖流である黒潮と寒流である 潮がぶつかっていることがあげられる。

- (2) 表2は、略地図2の①～⑤の県のうち、2つの県について、簡単にまとめたものです。A、Bに当てはまる県を、それぞれ①～⑤から選びなさい。また、A、Bの県の名をそれぞれ書きなさい。

表2

A	B
日本の標準時を決める経線が通っている明石市がある。また、1995年におこった阪神・淡路大震災では、神戸市などで大きな被害があった。現在は防災対策を一層進めている。	日清戦争の賠償金を資金の一部として建設され、2015年に世界遺産に登録された八幡製鉄所がある。また、北九州市にはリサイクル工場を集めたエコタウンが形成されている。

- (3) Xは、江戸時代にオランダ商館が置かれ、現在は県庁所在地となっている都市を示しています。この都市の名を書きなさい。

- 問6 表3は、歴史上、わが国とかかわりの深い外国人について、簡単にまとめたものです。これを見て、(1)～(3)に答えなさい。

表3

人の名	まとめ
<input type="text"/>	1549年に鹿児島に上陸したイエズス会の宣教師で、日本にキリスト教を伝えた。
ペリー	1853年に浦賀に来航したアメリカの東インド艦隊司令長官で、① <u>江戸幕府に開国を要求した。</u>
マッカーサー	1945年来日した② <u>連合軍総司令部（連合軍最高司令官総司令部）</u> の最高司令官で、日本政府に民主化を進める政策の実行を指令した。

- (1) に当てはまる人の名を書きなさい。
 (2) 下線部①の翌年に結ばれた日米和親条約によって下田とともに開港された港は、現在の北海道のどの都市にありましたか、その都市の名を書きなさい。
 (3) 下線部②の略称を、アルファベット大文字3字で書きなさい。

- 問7 次の(1)～(3)に答えなさい。

- (1) 一般に、物価が上がり続ける状態をインフレーションというのに対し、物価が下がり続ける状態を何といいますか、書きなさい。
 (2) 所得税に関して、日本でとられている、所得が多くなるほど税率が段階的に高くなるしくみ（方法）を何といいますか、書きなさい。
 (3) 次の文の に共通して当てはまる語句を書きなさい。

1997年に 市で開かれた地球温暖化を防止するための国際会議では、温室効果ガスの削減目標を定めた 議定書が採択された。

2

次の略年表を見て、問いに答えなさい。

略年表

西暦（年）	できごと
663	倭の軍が、白村江の戦いで、唐と <input type="text" value="A"/> の連合軍に敗れる
804	① <u>空海が遣唐使とともに唐に渡る</u>
1274	元軍が博多湾沿岸に上陸する
1404	② <u>勘合貿易が始まる</u>
1592	③ <u>豊臣秀吉が明の征服をめざし、朝鮮に兵を送る</u>
1871	④ <u>日清修好条規が結ばれる</u>
1978	日中平和友好条約が結ばれる

問1 に当てはまる国の名を、ア～エから選びなさい。

ア 高麗 イ 新羅 ウ 百済 エ 高句麗

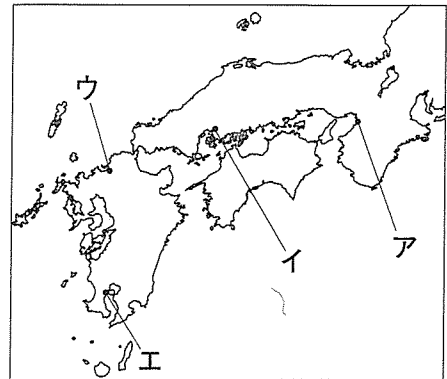
問2 下線部①のころのわが国の様子について述べた文を、ア～エから1つ選びなさい。

- ア 幕府は、武家諸法度を定め、全国の大名を統制した。
- イ 朝廷は、冠位十二階の制度を定め、政治制度を整えた。
- ウ 幕府は、六波羅探題を設置し、朝廷を監視した。
- エ 朝廷は、征夷大將軍を東北地方に派遣し、支配地域を広げた。

問3 下線部②に関して述べた次の文について、(1)、(2)に答えなさい。

この貿易は、室町幕府の将軍として南北朝の統一を果たした が、明から倭寇の取りしまりを求められたことをきっかけに始まった。この貿易によって、幕府だけでなく、堺や博多の商人も利益を得た。

略地図



- (1) に当てはまる人の名を書きなさい。
 (2) 下線部 ~~~~~ の都市の位置を、略地図のA～Eから選びなさい。

問4 下線部③が行った政策について述べた次の文の に当てはまる内容を、簡単に書きなさい。

豊臣秀吉は、百姓が一揆をおこすことを防ぎ、百姓を耕作だけに従事させるため、刀狩を命じて百姓が を禁じた。

問5 Bの時期の文化に関して述べた文を、A～オから2つ選びなさい。

- A 紫式部が、かな文字を用いて「源氏物語」を著した。
 B 近松門左衛門が、人形浄瑠璃の台本で、義理と人情の世界をえがいた。
 C 地方の国ごとの産物や地理、言い伝えなどを記した「風土記」がつけられた。
 D 滝沢馬琴が、長編小説である「南総里見八犬伝」を著した。
 E 吉田兼好（兼好法師）が、随筆集である「徒然草」を著した。

問6 下線部④に関して述べた次の文について、(1)、(2)に答えなさい。

この条規によって、日本と清との間では対等な立場で国交が開かれたが、琉球王国の所属をめぐっては対立が続いた。日本は、1872年に琉球藩を置き、1879年には 県を設置した。

- (1) に当てはまる県の名を書きなさい。
 (2) 下線部 ~~~~~ について、江戸時代にこの王国を支配していた藩の名を、A～Eから1つ選びなさい。

A 薩摩藩 B 長州藩 C 肥前藩 D 土佐藩

問7 Cの時期におきたできごとをA～Eから3つ選び、年代の古い順に並べなさい。

- A ベルリンの壁が取り壊され、東西ドイツが統一された。
 B ベトナム戦争が終結し、南北ベトナムが統一された。
 C レーニンを指導者とするソビエト社会主義共和国連邦が成立した。
 D 毛沢東を主席とする中華人民共和国が成立した。

- 3 次の表1は、ある中学生が、祝日や行事について調べてまとめたものの一部です。これを見て、問いに答えなさい。

表1

祝日や行事	内 容
憲法記念日 (5月3日)	① <u>日本国憲法</u> の施行を記念する日。
児童福祉週間 (5月5日～11日)	国や② <u>地方公共団体</u> 、家庭、学校、地域社会全体が一体となり、③ <u>児童福祉</u> の理解を深める活動を展開する週間。
消費者月間 (5月1日～31日)	④ <u>消費者</u> 、⑤ <u>事業者</u> 、行政が一体となり、消費者問題に関する教育等を集中的に行う月間。

問1 下線部①に定められている基本的人権について、次の(1)、(2)に答えなさい。

- (1) 社会権の内容の具体的な例として最も適当なものを、ア～エから選びなさい。

- ア 能力に応じて、ひとしく教育を受けること。
 イ 自分の考えや意見を自由に表現すること。
 ウ 令状がなければ、原則として逮捕されないこと。
 エ 住む場所を自由に選ぶこと。

- (2) 次の文の , に当てはまる語句をそれぞれ書きなさい。

日本国憲法は、「すべて国民は、法の下に であって、人種、信条、性別、社会的身分又は門地により、政治的、経済的又は社会的関係において、差別されない。」と定めている。

このことに関して、例えば、アイヌの人々の民族としての誇りが尊重される社会の実現を図り、あわせてわが国の多様な文化の発展に寄与することを目的として、1997年に 法が制定された。

問2 下線部②の議会が制定することができる地方公共団体独自の法（地方公共団体だけに適用されるきまり）を何といいますか、漢字2字で書きなさい。

問3 表2は、下線部③を含む日本の社会保障制度の4つの柱の内容をまとめたものです。

□A□, □B□ に当てはまる語句をそれぞれ書きなさい。

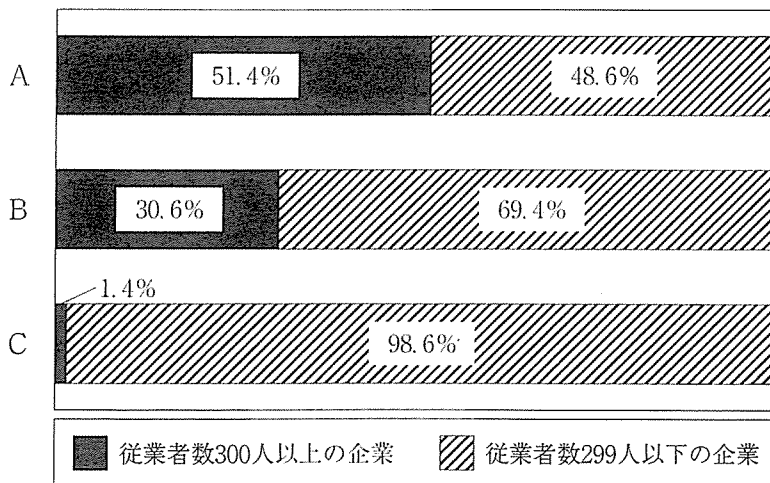
表2

社会保険	社会福祉	□A□	□B□
<ul style="list-style-type: none"> ・雇用保険 ・介護保険 ・年金保険 など 	<ul style="list-style-type: none"> ・児童福祉 ・高齢者福祉 ・障がい者福祉 など 	<ul style="list-style-type: none"> ・生活保護 (生活, 住宅, 教育, 医療など の援助) 	<ul style="list-style-type: none"> ・廃棄物処理 ・下水道整備 ・公害対策 など

問4 下線部④に関して、訪問販売などによって契約をしたり、商品を購入したりした場合に、消費者を保護する制度としてクーリング・オフ制度があります。クーリング・オフ制度により、消費者はどのようなことができますか、「契約」という語句を使い、簡単に書きなさい。

問5 下線部⑤に関して、グラフは、日本の製造業における事業所数等について、従業者数300人以上の企業と従業者数299人以下の企業の比率を示したものです。グラフのA～Cには、事業所数、従業者数、出荷額のいずれかが当てはまります。A～Cに当てはまるものの組み合わせとして正しいものを、ア～エから選びなさい。

グラフ

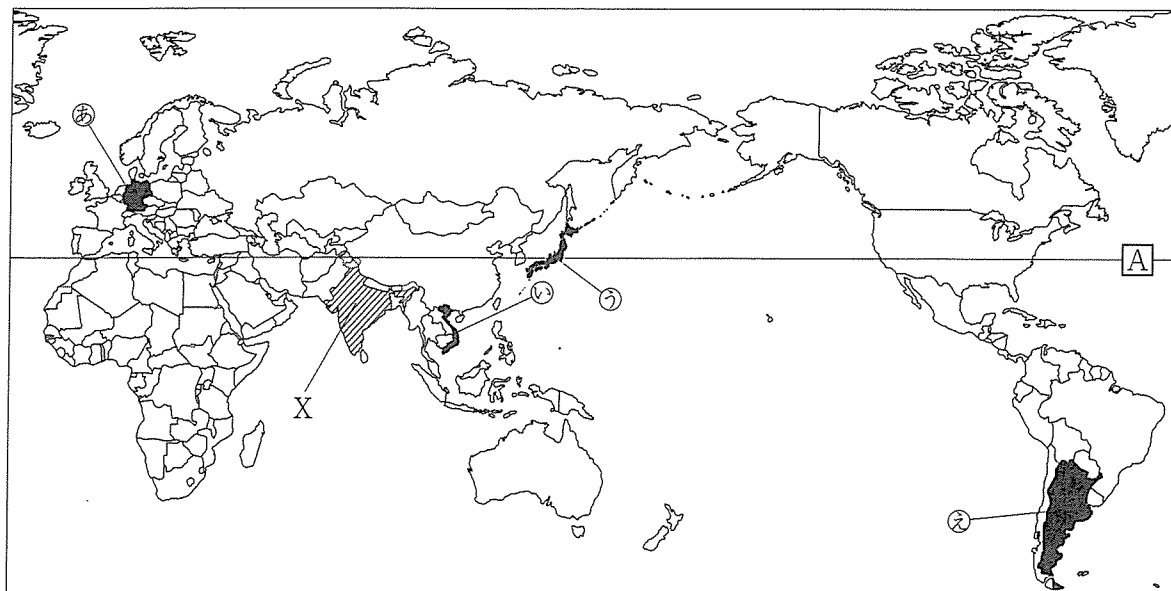


(データは2012年。「中小企業白書」2016年版より作成)

- | | | | |
|---|----------|----------|----------|
| ア | A - 出荷額 | B - 事業所数 | C - 従業者数 |
| イ | A - 従業者数 | B - 出荷額 | C - 事業所数 |
| ウ | A - 事業所数 | B - 出荷額 | C - 従業者数 |
| エ | A - 出荷額 | B - 従業者数 | C - 事業所数 |

- 4 次の **A**, **B** に答えなさい。
A 次の略地図を見て、問いに答えなさい。

略地図



問1 表1は、ある中学生が、アジアの国々の地理的な特色や面積について、学習したことをまとめたものの一部です。 **a** に当てはまる国の名を、I群のア～エから選びなさい。また、 **b** に当てはまるものを、II群のカ～ケから選びなさい。なお、Aの線は、東京を通る緯線を示しています。

表1

面積	地理的な特色	国土が海に面していない	b
日本より面積が広い		a	サウジアラビア
日本より面積が狭い		ネパール	韓国

[I 群] ア イラン イ タイ ウ モンゴル エ フィリピン

[II 群] カ 海に囲まれた島国である
 キ 国土が半島に位置している
 ク 首都の緯度が東京の緯度より低い
 ケ 首都の緯度が東京の緯度より高い

問2 表2のa～dには、略地図の④～②の国のいずれかが当てはまります。a～dそれぞれに当てはまる国を、④～②から選びなさい。

表2

項目 国	国民総所得 (億ドル)	一人当たりの国民 総所得(ドル)	第1次産業従事 者の割合(%)	第1次産業従事者一人 当たりの農地面積(ha)
a	61,264	48,145	2.0	3.7
b	1,490	1,641	62.3	0.4
c	5,925	14,421	7.1	107.3
d	36,261	43,794	1.4	27.3

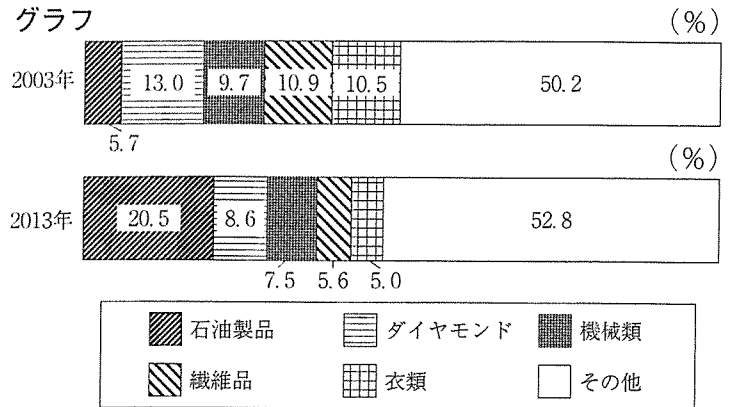
(データは2012年。世界国勢図会2015/16年版より作成)

問3 表3は、2003年と2013年におけるXの国の輸出総額と、輸出総額の世界合計を示しています。また、グラフは、Xの国の2003年と2013年における輸出総額の内訳を示しています。表3とグラフから読みとったことがらとして正しいものを、ア～エから1つ選びなさい。

表3

項目	年	2003	2013
Xの国の輸出総額 (百億ドル)		6	34
輸出総額の世界合計 (百億ドル)		703	1,846

グラフ

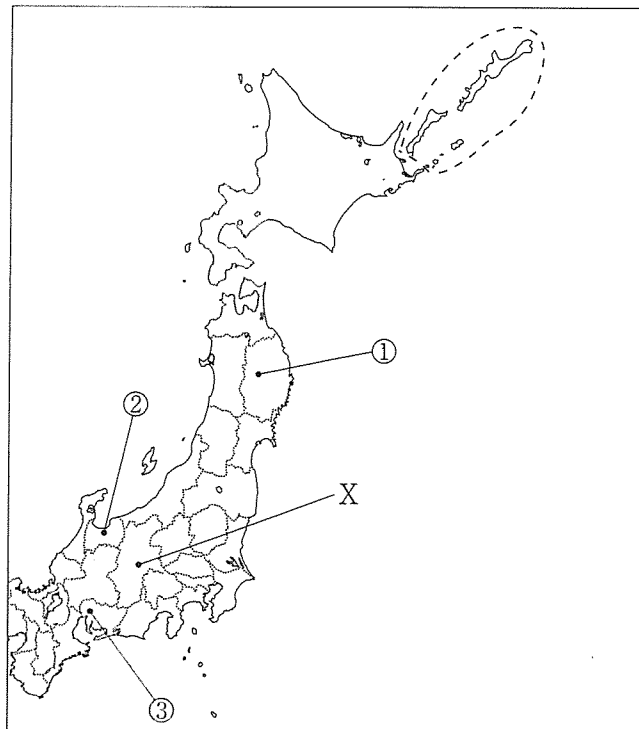


(表3とグラフは、日本国勢図会2006/07年版、日本国勢図会2015/16年版、世界国勢図会2004/05年版、世界国勢図会2014/15年版より作成)

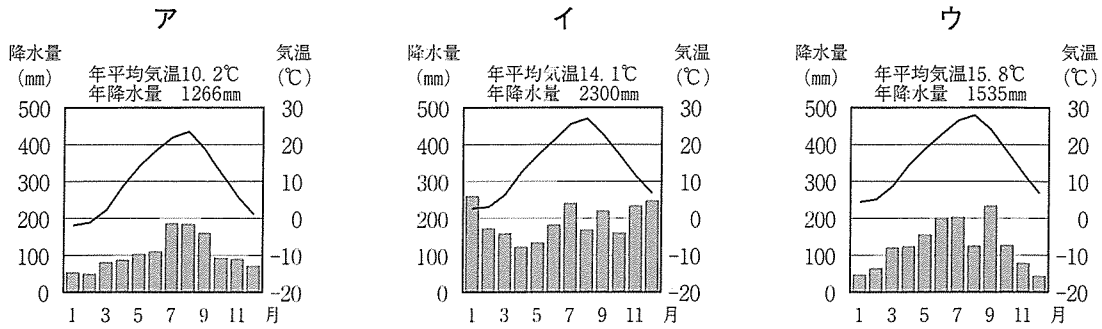
- ア Xの国の輸出総額は、2013年では2003年の5倍以上となっており、輸出総額の世界合計は、2013年では2003年の3倍以上となっている。
- イ Xの国の輸出総額に占める繊維品と衣類の割合の合計は、2013年では2003年の2倍以上となっている。
- ウ Xの国の輸出総額に占める石油製品の割合は、2013年では2003年より増加しており、Xの国の石油製品の輸出額は、2013年では2003年より10倍以上となっている。
- エ Xの国の輸出総額に占める機械類の割合と、Xの国の機械類の輸出額は、いずれも2013年では2003年より減少している。

B 次の略地図を見て、問いに答えなさい。

略地図



問1 略地図の①～③は、いずれも県庁が置かれている都市を示しており、次のア～ウのグラフは、①～③の都市の気温と降水量をそれぞれ示しています。①の都市の気温と降水量を示すグラフを、ア～ウから選びなさい。また、①の都市の名を書きなさい。

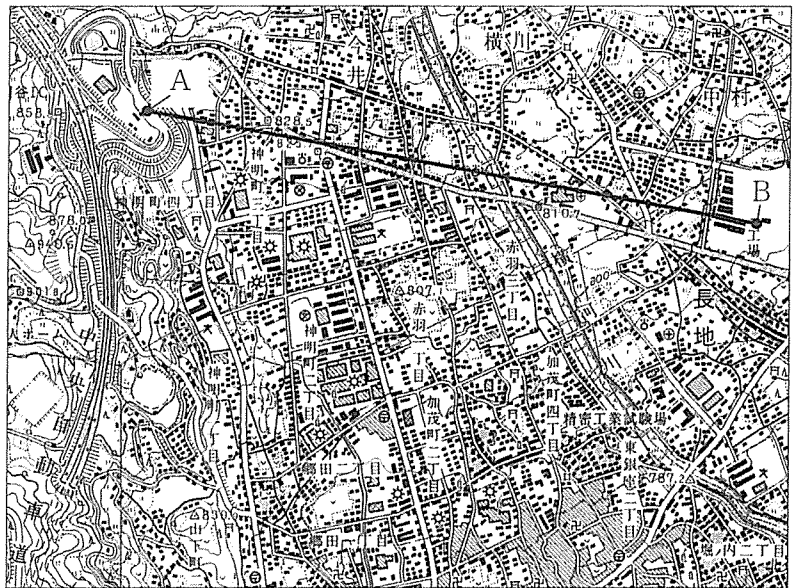


問2 地形図は、略地図のXの都市の一部を示しています。次の(1)、(2)に答えなさい。

(1) 地形図上のAは高速道路の料金所を、Bは工場を示しています。AとBを直線で結び、ものさしで測ったところ8.4cmでした。この結果から求められる、AとBの間の実際の距離として最も適当なものを、ア～エから選びなさい。

- ア 210m
- イ 420m
- ウ 2100m
- エ 4200m

地形図



(国土地理院 2万5千分の1地形図<平成9年>による。)

(2) 次の文の { } に当てはまるものを、ア～ウから選びなさい。また、 に当てはまる内容を、「製品」という語句を使い、簡単に書きなさい。

地形図上には、工場を示す地図記号である {ア イ ウ } が見られる。工場が高速道路のインターチェンジの近くにあると、工場にとって、 という利点がある。

問3 略地図の()で囲まれた島々は日本固有の領土であり、北方領土とよばれています。北方領土について述べた次の文の a に当てはまる島の名を書きなさい。また、 b に当てはまる国の名を書きなさい。

北方領土は、歯舞群島、色丹島、国後島、 a 島からなっており、現在、日本政府は、 b 政府に対して返還を要求している。